

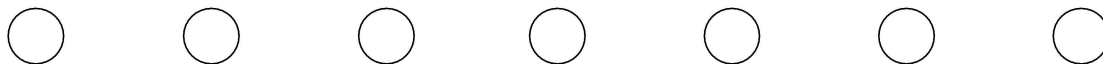

### Задание 1

Помогите Мистеру До определить, где находятся малые терции, а где большие.

Закрасьте кружки под малыми терциями.

— большая терция

— малая терция



### Задание 2


а) Сыграйте трезвучия на вашем инструменте.

б) Определите нижнюю терцию каждого трезвучия.

Отметьте эти терции кружочками подходящего цвета.

— большая терция

— малая терция



м. 3  
б. 3

м. 3  
б. 3


м. 3  
б. 3

м. 3  
б. 3

м. 3  
б. 3

м. 3  
б. 3

м. 3  
б. 3



м. 3  
б. 3

м. 3  
б. 3

м. 3  
б. 3

м. 3  
б. 3

м. 3  
б. 3

м. 3  
б. 3

м. 3  
б. 3

